

Nivell: 1r d'ESO.

Curs 2015-1016

- Per recuperar la matèria has de realitzar les següents activitats del dossier i que formaran part de la prova de recuperació. De tal manera que si les has respost bé ja tens el que cal saber.
- Et pots documentar amb el dossier de l'any passat, si encara el tens, a llibres de la biblioteca de l'escola, de la biblioteca de Lloret de Mar o a Internet.
- Respon aquestes preguntes de manera correcta, tot i cuidant l'ortografia i la presentació
- Per a recuperar l'assignatura cal un mínim de 6 punts sobre 10, amb el següent repartiment:

Avaluació del dossier:	40%	Avaluació del a prova escrita:	60%
Nota de les respostes:	80%	Nota d'elles respostes:	100%
Correcció lingüística:	10%	Recorda:	
Presentació general de les activitats:	10%	La incorrecció lingüística pot restar fins al 10%	

Si per respondre alguna resposta no tens prou amb l'espai que hi ha al dossier, pots afegir-hi fulls blancs degudament identificats amb el teu nom i el número de l'activitat.

ACTIVITATS:

1- Posa veritat (V) o fals (F) a les següents qüestions: (0,25)

- | | |
|---|---|
| El sagrat té a veure amb misteris inexplicables | Les coses sagrades formen part de la religió |
| Una persona atea creu en déu | La religió intenta respondre qüestions existencials |
| La religió animista dóna molts ànims | Els monoteistes creuen en un únic déu |
| Les filosofies orientals no tenen déus | Sabem tot sobre les religions prehistòriques |
| Un tòtem és com una mascota | Les formes d'enterrar poden tenir significat sagrat |

2- Quina és la diferència entre una religió monoteista i una politeista? (0,25)

3- Completa el quadre dels elements d'una religió i posa els exemples que falten? (0,25)

Creences	
	Celebracions, cants i pregàries
Ètica i normes	
Textos sagrats	
	Temples, ciutats
Persones sagrades	

4- Què podries dir sobre les creences de la persona si trobes el seu cos enterrat en posició fetal, mirant a l'est, amb fruits o flors al costat i el cos pintat de vermell? (0,25)

5- Posa el nom a les següents figures i diues quin significat podrien tenir. (0,25)



a)

b)

c)

a:

b:

c:

6- Completa el quadre. (0,25)

Tribus i pobles	Idea del déu o deesa	Imatge del déu o deesa	Formes d'enterrament
	Animal totèmic		Pintats de vermell
Agricultors		Trets femenins	
	Pare celestial		Creació

7- Relaciona els fets amb les dues ciències que ens ajuden a entendre les creences antigues. (0,25)

Restes humans

Ritus de pas

Pintures rupestres

Històries i mites

Manera de sobreviure

Construccions prehistòriques

a) Arqueologia

b) Antropologia

8- Posa veritat (V) o fals (F) a les següents qüestions: (0,25)

Osiris era un déu de Mesopotàmia

Les piràmides eren temples egipcis

Xiva és un déu de la Trimurti

El ziggurat era una tomba de Babilònia

La religió egípcia creia en la vida amb Ra

El karma es relaciona amb la reencarnació

El ka era l'ànima dels egipcis

Hamurabbi va escriure un codi de lleis

L'Imperi Egipci va patir un canvi climàtic

An, Enlil i Enki formen la tríada menor

9- Com dividia el món la cosmovisió mesopotàmica? (0,25)

10- Completa el quadre dels déus i deeses amb la cultura que li pertoca (egípcia, mesopotàmica o hindú): (0,25)

Xiva		Seth	
Osiris		Vixnú	
Ixtar		An	
Anubis		Ganesha	
Enki		Lakxmi	
Ptah		Kali	

11- Explica amb les teves paraules el Judici d'Osiris: (0,5)













12- Explica els tres significats de la paraula Braman. (0,25)

a)

b)

c)

13- Posa el nom a les figures i diu si són mesopotàmiques (M), egípcies (E) o Hinduistes (H). ((0,25))

14- Relaciona els conceptes de les dues columnes. (0,25)

Canals d'irrigació ()

Temples i sacrificis ()

Classe sacerdotal ()

Déus locals i familiars ()

Tombes reials eternes ()

Tradició oral ()

a) Primeres ciutats

b) Civilitzacions politeistes

15- Posa veritat (V) o fals (F) a les següents qüestions: (0,25)

Els déus grecs es comportaven com persones i intervenien en la vida de les persones

L'Olimp era la muntanya in vivien els déus grecs

Els romans tenien una religió original pròpia

Els grecs rendien culte al emperador

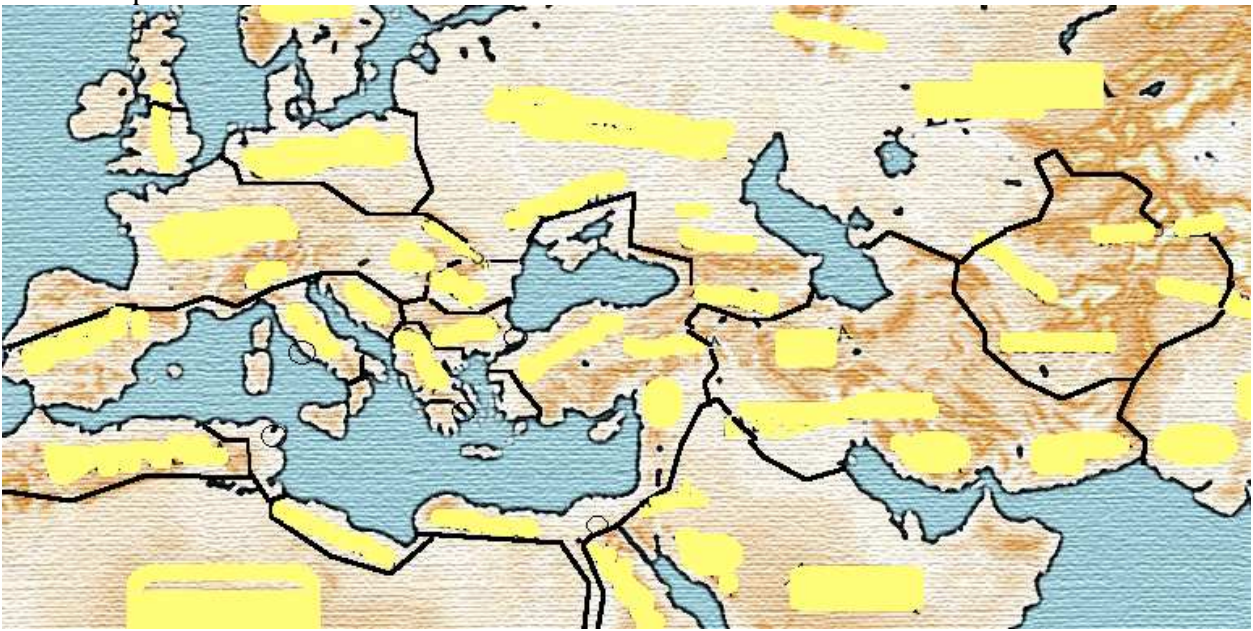
Caront portava els morts a l'infern a canvi de una moneda de plata

Les olimpiades es celebraven per rendre culte al déus pelàsgics

La filosofia dels antics grecs explicava la realitat amb la raó.

16- Posa al mapa (0,5)

- a) Les ciutats de Roma, Atenes, Memphis i Cartago
- b) Amb un color blau acolorix la zona inicial de la cultura grega
- c) Acolorix de verd les zones cèltes no conquerides pels romans
- d) Acolorix de taronja la zona on vivien els pobles germànics
- e) Ressegueix els límits de l'Imperi Romà



17- Explica breument els següents mites o conceptes: (0,5)

- a) La filosofia va acabar amb el mite:
- b) La caixa de Pandora:
- c) L'oracle de Delphos:
- d) Panteó olímpic

18- Completa el quadre dels déus grecoromans: (0,25)

Nom grec	Nom Romà	Divinitat de...
ZEUS	JUPITER	
	NEPTÚ	DÉU DEL MAR
DIONÍS		DÉU DEL VI
HERMES	MERCURI	
	MART	DÉU DE LA GUERRA
AFRODITA		DEESSA DE LA BELLESA I AMOR
HERA	JUNO	

19- Relaciona els conceptes de les dues columnes. (0,25)

Democràcia/Aristocràcia

Lares/Penats/Manes

Edda menor/major

Culte olímpic/pelàsgics

Literatura/Filosofia/Teatre

a) Cultes romans

b) Política grega

c) Cultes grecs

d) Herència cultural

e) Tradicions nòrdiques

20- Posa el nom a les figures i diu si són gregues (G), romanes (E) : (0,25)

