



Generalitat de Catalunya  
Departament d'Ensenyament  
Institut Escola Lloret de Mar  
C/Santiago de Cuba s/n  
<http://institutescolalloretdemar.cat>  
a/e [b7009898@xtec.cat](mailto:b7009898@xtec.cat)  
Tlf. 972 36 14 95

## Dossier d'activitats de recuperació de febrer: Història i cultura de les religions.

Nivell: 1r d'ESO.

Curs 2014-1015

Per recuperar la materia has de realitzar les següents activitats del dossier i que formaran part de la prova de recuperació. De tal manera que si les has respost bé ja tens el que cal saber.

Et pots documentar a llibres de la biblioteca de l'escola, de Lloret de Mar o a Internet.

Respon aquestes preguntes de manera correcta, tot i cuidant l'ortografia i la presentació  
Per a recuperar l'assignatura cal un mínim de 6 punts sobre 10, amb el següent repartiment:

Nota de les respostes:	80%
Ortografia correcta:	10%
Presentació general de les activitats:	10%

Si per contestar alguna resposta no tens prou amb l'espai que hi ha al dossier, pots afegir-hi fulls en blanc degudament identificats amb el teu nom i l'activitat.

ACTIVITATS:

1- Posa veritat (V) o fals (F) a les següents qüestions: (0,25)

El sagrat té a veure amb misteris inexplicables      Les coses sagrades formen part de la religió

Una persona atea creu en déu      La religió intenta respondre qüestions existencials

La religió animista dóna molts ànims      Els monoteistes creuen en un únic déu

Les filosofies orientals no tenen déus      Sabem tot sobre les religions prehistòriques

Un tòtem és com una mascota      Les formes d'enterrar poden tenir significat sagrat


2- Quina és la diferència entre una religió monoteista i una politeista? (0,25)

3- Completa el quadre dels elements d'una religió i posa els exemples que falten? (0,25)

Creences	
	Celebracions, cants i pregàries
Ètica i normes	
Textos sagrats	
	Temples, ciutats
Persones sagrades	

4- Què podries dir sobre les creences de la persona si trobes el seu cos enterrat en posició fetal, mirant a l'est, amb fruits o flors al costat i el cos pintat de vermell? (0,25)

5- Posa el nom a les següents figures i diues quin significat podrien tenir. (0,25)



a)



b)



c)

a:

b:

c:

6- Completa el quadre. (0,25)

Tribus i pobles	Idea del déu o deesa	Imatge del déu o deesa	Formes d'enterrament
	Animal totèmic		Pintats de vermell
Agricultors		Trets femenins	
	Pare celestial		Cremació

7- Relaciona els fets amb les dues ciències que ens ajuden a entendre les creences antigues. (0,25)

Restes humans

Ritus de pas

Pintures rupestres

Històries i mites

Manera de sobreviure

Construccions prehistòriques

a) Arqueologia

b) Antropologia

8- Posa veritat (V) o fals (F) a les següents qüestions: (0,25)

Osiris era un déu de Mesopotàmia

Les piràmides eren temples egipcis

Xiva és un déu de la Trimurti

El ziggurat era una tomba de Babilònia

La religió egípcia creia en la vida amb Ra

El karma es relaciona amb la reencarnació

El ka era l'ànima dels egipcis

Hamurabbi va escriure un codi de lleis

L'Imperi Egipci va patir un canvi climàtic

An, Enlil i Enki formen la tríada menor

9- Com dividia el món la cosmovisió mesopotàmica? (0,25)

10- Completa el quadre dels déus i deeses amb la cultura que li pertoca (egípcia, mesopotàmica o hindú): (0,25)

Xiva		Seth	
Osiris		Vixnú	
Ixtar		An	
Anubis		Ganesha	
Enki		Lakxmi	
Ptah		Kali	

11- Explica amb les teves paraules el Judici d'Osiris: (0,5)













12- Explica els tres significats de la paraula Braman. (0,25)

a)

b)

c)

13- Posa el nom a les figures i diu si són mesopotàmiques (M), egípcies (E) o Hinduistes (H). ((0,25))

14- Relaciona els conceptes de les dues columnes. (0,25)

Canals d'irrigació  
Temples i sacrificis  
Classe sacerdotal  
Déus locals i familiars  
Tombes reials eternes  
Tradició oral

a) Primeres ciutats

b) Civilitzacions politeistes

15- Posa veritat (V) o fals (F) a les següents qüestions: (0,25)

Els déus grecs es comportaven com persones i intervenien en la vida de les persones

L'Olimp era la muntanya in vivien els déus grecs

Els romans tenien una religió original pròpia

Els grecs rendien culte al emperador

Caront portava els morts a l'infern a canvi de una moneda de plata

Yggdrasil era un animal que es menjava el món

Les olimpiades es celebraven per rendre culte al déus pelàsgics

La filosofia dels antics grecs explicava la realitat amb la raó.

16- Posa al mapa (0,5)

- a) Les ciutats de Roma, Atenes, memphis i Cartago b) Amb un color blau acoloreix la zona inicial de la cultura grega c) Acoloreix de verd les zones celtas no conquerides pels romans d) Acoloreix de taronja la zona on vivien els pobles germànics e) Ressegueix els límits de l'Imperi Romà



17- Explica breument els següents mites o conceptes: (0,5)

a) La filosofia va acabar amb el mite:

b) La caixa de Pandora:

c) L'oracle de Delphos:

d) Ragnarok:

e) Panteó olímpic

18- Completa el quadre dels déus grecoromans: (0,25)

Nom grec	Nom Romà	Divinitat de...
ZEUS	JUPITER	
	NEPTÚ	DÉU DEL MAR
DIONÍS		DÉU DEL VI
HERMES	MERCURI	
	MART	DÉU DE LA GUERRA
AFRODITA		DEESSA DE LA BELLESA I AMOR
HERA	JUNO	

19- Relaciona els conceptes de les dues columnes. (0,25)

Democràcia/Aristocràcia

Lares/Penats/Manes

Edda menor/major

Culte olímpic/pelàsgics

Literatura/Filosofia/Teatre

a) Cultes romans

b) Política grega

c) Cultes grecs

d) Herència cultural

e) Tradicions nòrdiques

20- Posa el nom a les figures i diu si són gregues (G), romanes (E) o germàniques (H): (0,25)



21- Posa veritat (V) o fals (F) a les següents qüestions: (0,25)

Siddharta va viure com a príncep a l'antiga Índia

Buda és un déu

El budisme es va difondre per gairebé tota Àsia

Els budistes creuen que es possible trencar el cicle de reencarnacions hinduista

Les estupes són les cases on hi viuen els monjos budistes

Siddharta va sentir que havia d'ajudar la humanitat a alliberar-se

El budisme terayaki és una de les formes més importants del budisme

El Dalai Lama és un monjo qualsevol del Tibet.

22- Explica les quatre veritats del budisme: (0,25)

1ª:

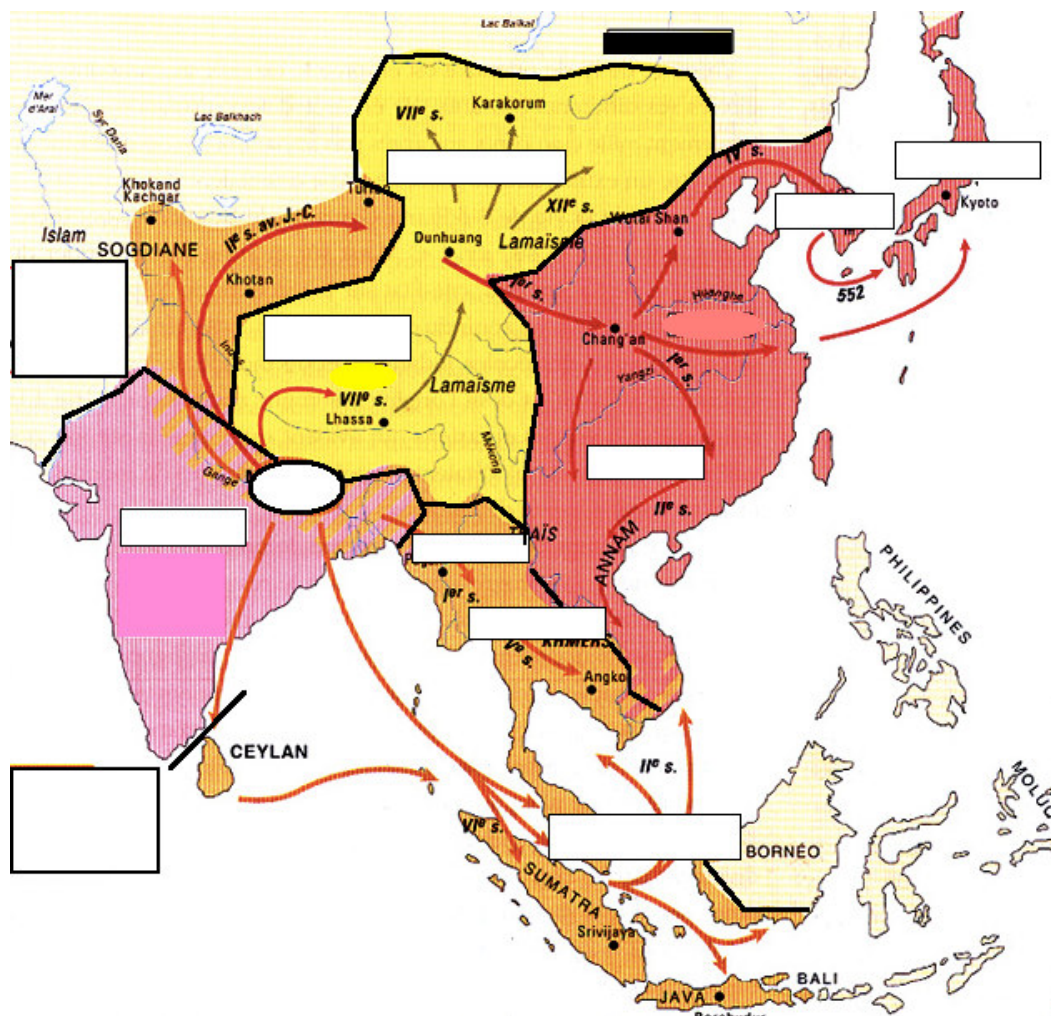
2ª:

3ª:

4ª:



23- Posa al mapa: a) Els principals països o cultures d'Àsia remarcats en requadres que tenen una tradició budista . b) El nucli central d'expansió del budisme, c) Acoloreix les zones del budisme tibetà, i de la zona que segueix el Hinayana. ((0,25))



24- Explica breument els següents conceptes: (0,25)

- Nirvana:
- Dhammapada:
- Les vuit branques:
- Mahayana:
- Meditació:
- Estupa:

25- Posa el nom a les figures (0,25)

26- Posa veritat (V) o fals (F) a les següents qüestions: (0,25)

La Bíblia es va escriure en un curt espai de temps.

La primera versió va ser escrita en llatí.

Totes les còpies existents dels evangelis hi són al Nou Testament

Els llibres de la Bíblia van ser escrits per persones sota la influència de Déu.

Els evangelis expliquen la història de Sant Tomàs i Sant Andreu.

El Pentateuc està format pels darrers set llibres de l'Antic Testament

Lluc va escriure el seu evangeli en dos parts

L'evangeli de Marc va ser l'últim dels que es van escriure

27- Explica què és la Bíblia? (0,25)

28- Quins són els llibres del Pentateuc i què significa el seu nom? (0,25)

Llibre	Significat del nom